

义务教育教科书




义务教育教科书

# 数学

五年级 上册

数学  
五年级  
上册



$$0.05 \times 1000 = 50$$

$$5 \div 10 = 0.5$$

$$4x = 64$$

$$216 \div 18 = 12$$

$$S = ah$$

$$[8.3 - (3.6 + 2.9)] \div 0.72$$

$$x \div 35 = 3$$

$$S = ah \div 2$$

$$S = (a + b)h \div 2$$



绿色印刷产品

ISBN 978-7-5545-1120-6 0 1 >



定价：7.35元

全国价格举报电话：12358



河北教育出版社

河北教育出版社

义 务 教 育 教 科 书

# 数 学

五 年 级 上 册



河北教育出版社



亲爱的同学：

你现在已经是小学高年级的学生了。在本学期的学习中，我们要利用已有的数学知识和经验，学习新的知识并解决问题……

● 平均每节电池多少元？

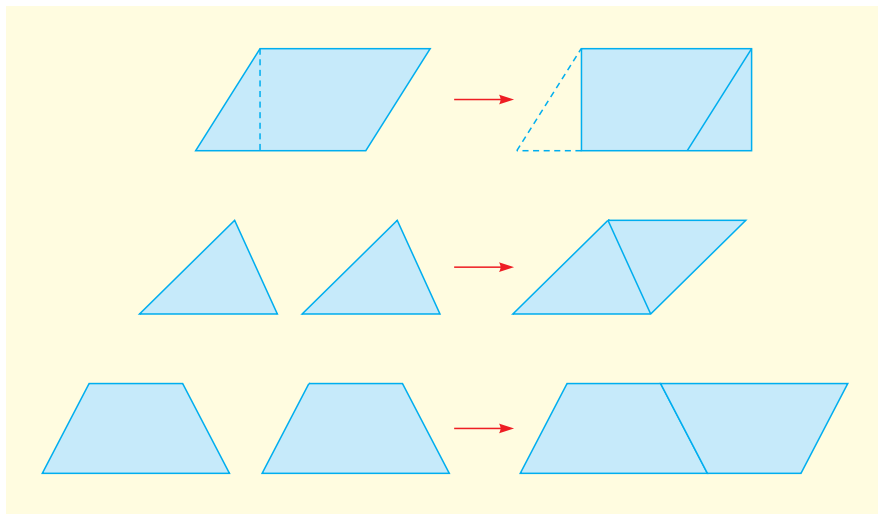


5.4元 / 6节

怎样把小数乘除法计算转化为整数乘除法计算？



怎样把平行四边形、三角形和梯形转化为学过的图形……



我们相信，你一定能克服困难，得到成功的学习体验，并且学会很多数学知识，学会学习的方法。



## 目 录

一	方向与路线 .....	1
二	小数乘法 .....	6
	 旅游方案 .....	22
三	小数除法 .....	24
四	可能性 .....	39
五	四则混合运算（二） .....	45
六	多边形的面积 .....	56
	 铺甬路 .....	68
七	土地的面积 .....	70
	 估算玉米收入 .....	78
八	方程 .....	79
九	探索乐园 .....	95
●	整理与评价 .....	98

附页

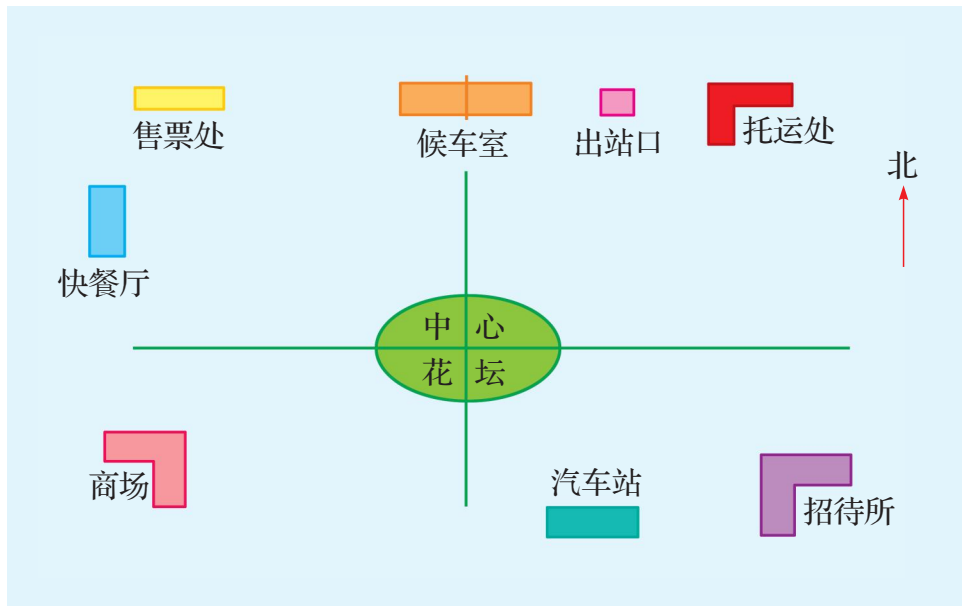
## 一 方向与路线



你知道火车站都有哪些服务设施吗？



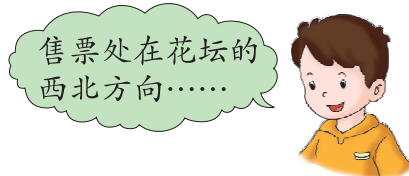
下面是某火车站广场周围主要服务设施示意图。



**说一说** 以中心花坛为观测点，各服务设施在什么方向？



出站口、托运处都在花坛的东北方向。



售票处在花坛的西北方向……